

<i>Rodzaj dokumentu:</i>	Zasady oceniania rozwiązań zadań
<i>Egzamin:</i>	Egzamin maturalny
<i>Przedmiot:</i>	Matematyka
<i>Poziom:</i>	Poziom podstawowy
<i>Formy arkusza:</i>	EMAP-P0-100 (wersje arkusza: A i B), EMAP-P0-200, EMAP-P0-300, EMAP-P0-400, EMAP-P0-600, EMAP-P0-700, EMAP-P0-K00, EMAP-P0-Q00, EMAU-P0-100
<i>Termin egzaminu:</i>	8 maja 2024 r.
<i>Data publikacji dokumentu:</i>	28 czerwca 2024 r.

Uwaga:

Gdy wymaganie egzaminacyjne dotyczy treści z III etapu edukacyjnego, dopisano „G”.

ZADANIA ZAMKNIĘTE**Zadanie 1. (0–1)**

Wymagania egzaminacyjne 2024¹	
Wymaganie ogólne	Wymaganie szczegółowe
I. Wykorzystanie i tworzenie informacji.	Zdający: 1.8) wykonuje obliczenia procentowe [...].

Zasady oceniania

1 pkt – odpowiedź poprawna.

0 pkt – odpowiedź niepoprawna albo brak odpowiedzi.

Rozwiązanie

Wersja A

Wersja B

C

B

Zadanie 2. (0–1)

Wymagania egzaminacyjne 2024	
Wymaganie ogólne	Wymaganie szczegółowe
II. Wykorzystanie i interpretowanie reprezentacji.	Zdający: 1.4) oblicza potęgi o wykładnikach wymiernych i stosuje prawa działań na potęgach o wykładnikach wymiernych.

Zasady oceniania

1 pkt – odpowiedź poprawna.

0 pkt – odpowiedź niepoprawna albo brak odpowiedzi.

Rozwiązanie

Wersja A

Wersja B

B

C

¹ Rozporządzenie Ministra Edukacji i Nauki z dnia 1 sierpnia 2022 r. w sprawie wymagań egzaminacyjnych dla egzaminu maturalnego przeprowadzanego w roku szkolnym 2022/2023 i 2023/2024 (Dz.U. 2022, poz.1698).

Zadanie 3. (0–1)

Wymagania egzaminacyjne 2024	
Wymaganie ogólne	Wymaganie szczegółowe
II. Wykorzystanie i interpretowanie reprezentacji.	Zdający: 1.6) wykorzystuje definicję logarytmu [...].

Zasady oceniania

1 pkt – odpowiedź poprawna.

0 pkt – odpowiedź niepoprawna albo brak odpowiedzi.

Rozwiązanie

Wersja A

Wersja B

C

B

Zadanie 4. (0–1)

Wymagania egzaminacyjne 2024	
Wymaganie ogólne	Wymaganie szczegółowe
II. Wykorzystanie i interpretowanie reprezentacji.	Zdający: 2. używa wzorów skróconego mnożenia na $(a \pm b)^2$ oraz $a^2 - b^2$.

Zasady oceniania

1 pkt – odpowiedź poprawna.

0 pkt – odpowiedź niepoprawna albo brak odpowiedzi.

Rozwiązanie

Wersja A

Wersja B

B

D

Zadanie 5. (0–1)

Wymagania egzaminacyjne 2024	
Wymaganie ogólne	Wymaganie szczegółowe
II. Wykorzystanie i interpretowanie reprezentacji.	Zdający: 3.3) rozwiązuje nierówności stopnia pierwszego z jedną niewiadomą.

Zasady oceniania

1 pkt – odpowiedź poprawna.

0 pkt – odpowiedź niepoprawna albo brak odpowiedzi.

Rozwiązanie

Wersja A

Wersja B

D

D

Zadanie 6. (0–1)

Wymagania egzaminacyjne 2024	
Wymaganie ogólne	Wymaganie szczegółowe
II. Wykorzystanie i interpretowanie reprezentacji.	Zdający: 3.6) korzysta z własności iloczynu przy rozwiązywaniu równań typu $x(x + 1)(x - 7) = 0$.

Zasady oceniania

1 pkt – odpowiedź poprawna.

0 pkt – odpowiedź niepoprawna albo brak odpowiedzi.

Rozwiązanie

Wersja A

Wersja B

B

C

Zadanie 7. (0–1)

Wymagania egzaminacyjne 2024	
Wymaganie ogólne	Wymaganie szczegółowe
II. Wykorzystanie i interpretowanie reprezentacji.	Zdający: 3.7) rozwiązuje proste równania wymierne, prowadzące do równań liniowych lub kwadratowych [...].

Zasady oceniania

1 pkt – odpowiedź poprawna.

0 pkt – odpowiedź niepoprawna albo brak odpowiedzi.

Rozwiązanie

Wersja A

Wersja B

B

B

Zadanie 8. (0–1)

Wymagania egzaminacyjne 2024	
Wymaganie ogólne	Wymaganie szczegółowe
II. Wykorzystanie i interpretowanie reprezentacji.	Zdający: G7.7) za pomocą równań lub układów równań opisuje i rozwiązuje zadania osadzone w kontekście praktycznym.

Zasady oceniania

1 pkt – odpowiedź poprawna.

0 pkt – odpowiedź niepoprawna albo brak odpowiedzi.

Rozwiązanie

Wersja A

Wersja B

A

D

Zadanie 9. (0–1)

Wymagania egzaminacyjne 2024	
Wymaganie ogólne	Wymaganie szczegółowe
V. Rozumowanie i argumentacja.	Zdający: G9.3) wyznacza średnią arytmetyczną [...] zestawu danych.

Zasady oceniania

1 pkt – odpowiedź poprawna.

0 pkt – odpowiedź niepoprawna albo brak odpowiedzi.

Rozwiązanie

Wersja A

Wersja B

A

C

Zadanie 10. (0–1)

Wymagania egzaminacyjne 2024	
Wymaganie ogólne	Wymaganie szczegółowe
I. Wykorzystanie i tworzenie informacji.	Zdający: 3.2) wykorzystuje interpretację geometryczną układu równań stopnia pierwszego z dwiema niewiadomymi.

Zasady oceniania

1 pkt – odpowiedź poprawna.

0 pkt – odpowiedź niepoprawna albo brak odpowiedzi.

Rozwiązanie

Wersja A

Wersja B

A

C

Zadanie 11. (0–1)

Wymagania egzaminacyjne 2024	
Wymaganie ogólne	Wymaganie szczegółowe
I. Wykorzystanie i tworzenie informacji.	Zdający: 4.3) odczytuje z wykresu własności funkcji ([...] zbiór wartości [...]).

Zasady oceniania

1 pkt – odpowiedź poprawna.

0 pkt – odpowiedź niepoprawna albo brak odpowiedzi.

Rozwiązanie

Wersja A

Wersja B

C

A

Zadanie 12. (0–1)

Wymagania egzaminacyjne 2024	
Wymaganie ogólne	Wymaganie szczegółowe
II. Wykorzystanie i interpretowanie reprezentacji.	Zdający: 4.7) interpretuje współczynniki występujące we wzorze funkcji liniowej.

Zasady oceniania

1 pkt – odpowiedź poprawna.

0 pkt – odpowiedź niepoprawna albo brak odpowiedzi.

Rozwiązanie

Wersja A

Wersja B

D

B

Zadanie 13. (0–1)

Wymagania egzaminacyjne 2024	
Wymaganie ogólne	Wymaganie szczegółowe
II. Wykorzystanie i interpretowanie reprezentacji.	Zdający: 4.6) wyznacza wzór funkcji liniowej na podstawie informacji o funkcji lub o jej wykresie.

Zasady oceniania

1 pkt – odpowiedź poprawna.

0 pkt – odpowiedź niepoprawna albo brak odpowiedzi.

Rozwiązanie

Wersja A

Wersja B

D

A

Zadanie 14. (0–1)

Wymagania egzaminacyjne 2024	
Wymaganie ogólne	Wymaganie szczegółowe
I. Wykorzystanie i tworzenie informacji.	Zdający: 4.9) wyznacza wzór funkcji kwadratowej na podstawie pewnych informacji o tej funkcji lub o jej wykresie.

Zasady oceniania

1 pkt – odpowiedź poprawna.

0 pkt – odpowiedź niepoprawna albo brak odpowiedzi.

Rozwiązanie

Wersja A

Wersja B

B

A

Zadanie 15. (0–1)

Wymagania egzaminacyjne 2024	
Wymaganie ogólne	Wymaganie szczegółowe
I. Wykorzystanie i tworzenie informacji.	Zdający: 4.11) wykorzystuje własności funkcji [...] kwadratowej [...].

Zasady oceniania

1 pkt – odpowiedź poprawna.

0 pkt – odpowiedź niepoprawna albo brak odpowiedzi.

Rozwiązanie

Wersja A

Wersja B

A

C

Zadanie 16. (0–1)

Wymagania egzaminacyjne 2024	
Wymaganie ogólne	Wymaganie szczegółowe
III. Modelowanie matematyczne.	Zdający: 5.3) stosuje wzór na n -ty wyraz [...] ciągu arytmetycznego.

Zasady oceniania

1 pkt – odpowiedź poprawna.

0 pkt – odpowiedź niepoprawna albo brak odpowiedzi.

Rozwiązanie

Wersja A

Wersja B

C

C

Zadanie 17. (0–1)

Wymagania egzaminacyjne 2024	
Wymaganie ogólne	Wymaganie szczegółowe
III. Modelowanie matematyczne.	Zdający: 5.4) stosuje wzór na n -ty wyraz [...] ciągu geometrycznego.

Zasady oceniania

1 pkt – odpowiedź poprawna.

0 pkt – odpowiedź niepoprawna albo brak odpowiedzi.

Rozwiązanie

Wersja A

Wersja B

C

D

Zadanie 18. (0–1)

Wymagania egzaminacyjne 2024	
Wymaganie ogólne	Wymaganie szczegółowe
II. Wykorzystanie i interpretowanie reprezentacji.	Zdający: 5.1) wyznacza wyrazy ciągu określonego wzorem ogólnym.

Zasady oceniania

1 pkt – odpowiedź poprawna.

0 pkt – odpowiedź niepoprawna albo brak odpowiedzi.

Rozwiązanie

Wersja A

Wersja B

A

D

Zadanie 19. (0–1)

Wymagania egzaminacyjne 2024	
Wymaganie ogólne	Wymaganie szczegółowe
IV. Użycie i tworzenie strategii.	Zdający: 6.3) stosuje proste zależności między funkcjami trygonometrycznymi: $\sin^2 \alpha + \cos^2 \alpha = 1$ [...].

Zasady oceniania

1 pkt – odpowiedź poprawna.

0 pkt – odpowiedź niepoprawna albo brak odpowiedzi.

Rozwiązanie

Wersja A

B

Wersja B

A

Zadanie 20. (0–1)

Wymagania egzaminacyjne 2024	
Wymaganie ogólne	Wymaganie szczegółowe
IV. Użycie i tworzenie strategii.	Zdający: 6.4) znając wartość jednej z funkcji: sinus lub cosinus, wyznacza wartości pozostałych funkcji tego samego kąta ostrego.

Zasady oceniania

1 pkt – odpowiedź poprawna.

0 pkt – odpowiedź niepoprawna albo brak odpowiedzi.

Rozwiązanie

Wersja A

B

Wersja B

B

Zadanie 21. (0–1)

Wymagania egzaminacyjne 2024	
Wymaganie ogólne	Wymaganie szczegółowe
I. Wykorzystanie i tworzenie informacji.	Zdający: 7.4) korzysta z własności funkcji trygonometrycznych w łatwych obliczeniach geometrycznych, w tym ze wzoru na pole trójkąta ostrokątnego o danych dwóch bokach i kącie między nimi.

Zasady oceniania

1 pkt – odpowiedź poprawna.

0 pkt – odpowiedź niepoprawna albo brak odpowiedzi.

Rozwiązanie

Wersja A

Wersja B

B

D

Zadanie 22. (0–1)

Wymagania egzaminacyjne 2024	
Wymaganie ogólne	Wymaganie szczegółowe
IV. Użycie i tworzenie strategii.	Zdający: 7.3) rozpoznaje trójkąty podobne i wykorzystuje cechy podobieństwa trójkątów.

Zasady oceniania

1 pkt – odpowiedź poprawna.

0 pkt – odpowiedź niepoprawna albo brak odpowiedzi.

Rozwiązanie

Wersja A

Wersja B

C

A

Zadanie 23. (0–1)

Wymagania egzaminacyjne 2024	
Wymaganie ogólne	Wymaganie szczegółowe
IV. Użycie i tworzenie strategii.	Zdający: 7.1) stosuje zależności między kątem środkowym i kątem wpisanym.

Zasady oceniania

1 pkt – odpowiedź poprawna.

0 pkt – odpowiedź niepoprawna albo brak odpowiedzi.

Rozwiązanie

Wersja A

Wersja B

C

D

Zadanie 24. (0–1)

Wymagania egzaminacyjne 2024	
Wymaganie ogólne	Wymaganie szczegółowe
II. Wykorzystanie i interpretowanie reprezentacji.	Zdający: 8.2) bada [...] prostopadłość prostych na podstawie ich równań kierunkowych.

Zasady oceniania

1 pkt – odpowiedź poprawna.

0 pkt – odpowiedź niepoprawna albo brak odpowiedzi.

Rozwiązanie

Wersja A

Wersja B

A

C

Zadanie 25. (0–1)

Wymagania egzaminacyjne 2024	
Wymaganie ogólne	Wymaganie szczegółowe
I. Wykorzystanie i tworzenie informacji.	Zdający: 8.1) wyznacza równanie prostej przechodzącej przez dwa dane punkty (w postaci kierunkowej lub ogólnej).

Zasady oceniania

1 pkt – odpowiedź poprawna.

0 pkt – odpowiedź niepoprawna albo brak odpowiedzi.

Rozwiązanie

Wersja A

A

Wersja B

A

Zadanie 26. (0–1)

Wymagania egzaminacyjne 2024	
Wymaganie ogólne	Wymaganie szczegółowe
I. Wykorzystanie i tworzenie informacji.	Zdający: G11.2) oblicza pole powierzchni [...] graniastosłupa prostego [...].

Zasady oceniania

1 pkt – odpowiedź poprawna.

0 pkt – odpowiedź niepoprawna albo brak odpowiedzi.

Rozwiązanie

Wersja A

C

Wersja B

A

Zadanie 27. (0–1)

Wymagania egzaminacyjne 2024	
Wymaganie ogólne	Wymaganie szczegółowe
I. Wykorzystanie i tworzenie informacji.	Zdający: 9.2) rozpoznaje w graniastosłupach kąt między odcinkami i płaszczyznami [...].

Zasady oceniania

1 pkt – odpowiedź poprawna.

0 pkt – odpowiedź niepoprawna albo brak odpowiedzi.

Rozwiązanie

Wersja A

D

Wersja B

D

Zadanie 28. (0–1)

Wymagania egzaminacyjne 2024	
Wymaganie ogólne	Wymaganie szczegółowe
II. Wykorzystanie i interpretowanie reprezentacji.	Zdający: G11.2) oblicza pole powierzchni i objętość [...] ostrosłupa [...].

Zasady oceniania

1 pkt – odpowiedź poprawna.

0 pkt – odpowiedź niepoprawna albo brak odpowiedzi.

Rozwiązanie

Wersja A

B

Wersja B

B

Zadanie 29. (0–1)

Wymagania egzaminacyjne 2024	
Wymaganie ogólne	Wymaganie szczegółowe
III. Modelowanie matematyczne.	Zdający: 10.1) zlicza obiekty w prostych sytuacjach kombinatorycznych [...].

Zasady oceniania

1 pkt – odpowiedź poprawna.

0 pkt – odpowiedź niepoprawna albo brak odpowiedzi.

Rozwiązanie

Wersja A

Wersja B

C

D

ZADANIA OTWARTE

Uwagi ogólne:

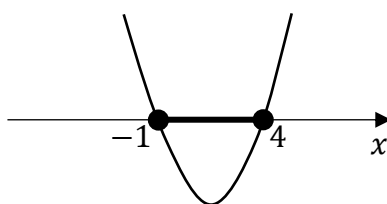
1. Akceptowane są wszystkie rozwiązania merytorycznie poprawne i spełniające warunki zadania.
2. Jeżeli zdający poprawnie rozwiąże zadanie i otrzyma poprawny wynik, lecz w końcowym zapisie przekształca ten wynik i popełnia przy tym błąd, to może uzyskać maksymalną liczbę punktów.
3. Jeżeli zdający popełni błędy rachunkowe, które na żadnym etapie rozwiązania nie upraszczają i nie zmieniają danego zagadnienia, lecz stosuje poprawną metodę i konsekwentnie do popełnionych błędów rachunkowych rozwiązuje zadanie, to może otrzymać co najwyżej $(n - 1)$ punktów (gdzie n jest maksymalną możliwą do uzyskania liczbą punktów za dane zadanie).

Zadanie 30. (0–2)

Wymagania egzaminacyjne 2024	
Wymaganie ogólne	Wymaganie szczegółowe
II. Wykorzystanie i interpretowanie reprezentacji.	Zdający: 3.5) rozwiązuje nierówności kwadratowe z jedną niewiadomą.

Zasady oceniania

- 2 pkt – spełnienie jednego z warunków określonych w zasadach oceniania za 1 pkt **oraz** zapisanie zbioru rozwiązań nierówności: $\langle -1, 4 \rangle$ lub $x \in \langle -1, 4 \rangle$
ALBO
 – spełnienie jednego z warunków określonych w zasadach oceniania za 1 pkt **oraz** przedstawienie zbioru rozwiązań nierówności w postaci graficznej z poprawnie zaznaczonymi końcami przedziałów



- 1 pkt – obliczenie lub podanie pierwiastków trójmianu kwadratowego $x^2 - 3x - 4$:

$$x_1 = -1 \text{ oraz } x_2 = 4$$

ALBO

- odczytanie z wykresu funkcji $f(x) = x^2 - 3x - 4$ i zapisanie miejsc zerowych

$$x_1 = -1 \text{ oraz } x_2 = 4.$$

- 0 pkt – rozwiązanie, w którym zastosowano niepoprawną metodę, albo brak rozwiązania.

Uwagi:

1. Jeżeli zdający, realizując pierwszy etap rozwiązania zadania, popełni błędy (ale otrzyma dwa różne pierwiastki) i konsekwentnie do popełnionych błędów zapisze zbiór rozwiązań nierówności, to otrzymuje **1 punkt** za całe rozwiązanie.
2. Jeżeli zdający wyznacza pierwiastki trójmianu kwadratowego w przypadku, gdy błędnie obliczony przez zdającego wyróżnik Δ jest ujemny, to otrzymuje **0 punktów** za całe rozwiązanie.
3. Jeżeli zdający, rozpoczynając realizację pierwszego etapu rozwiązania, rozpatruje inny niż podany w zadaniu trójmian kwadratowy, który nie wynika z błędu przekształcenia (np. $x^2 - 4$), i w konsekwencji rozpatruje inną nierówność (np. $x^2 - 4 \leq 0$), to oznacza, że nie podjął realizacji 1. etapu rozwiązania i otrzymuje **0 punktów** za całe rozwiązanie.
4. Akceptowane jest zapisanie pierwiastków trójmianu w postaci $a + b\sqrt{c}$, gdzie a, b, c są liczbami wymiernymi.
5. Jeżeli zdający poda zbiór rozwiązań w postaci graficznej z poprawnie zaznaczonymi końcami przedziałów oraz zapisze: $x \in (-1, 4)$, to otrzymuje **1 punkt** za całe rozwiązanie.

Kryteria uwzględniające specyficzne trudności w uczeniu się matematyki

Jeśli zdający pomyli porządek liczb na osi liczbowej, np. zapisze zbiór rozwiązań nierówności w postaci $\langle 4, -1 \rangle$, to otrzymuje **2 punkty**.

Przykładowe pełne rozwiązanie

Zapisujemy nierówność w postaci $x^2 - 3x - 4 \leq 0$ i obliczamy pierwiastki trójmianu $x^2 - 3x - 4$.

Obliczamy wyróżnik trójmianu: $\Delta = 25$

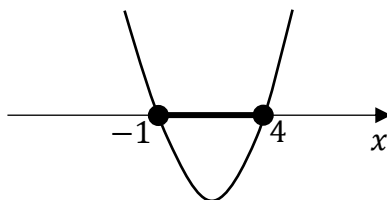
i obliczamy jego pierwiastki: $x_1 = -1$ oraz $x_2 = 4$

ALBO

podajemy pierwiastki trójmianu bezpośrednio, zapisując je lub zaznaczając je na wykresie:

$x_1 = -1$ oraz $x_2 = 4$.

Podajemy zbiór rozwiązań nierówności: $\langle -1, 4 \rangle$ lub $x \in \langle -1, 4 \rangle$, lub zaznaczamy zbiór rozwiązań na osi liczbowej:



Zadanie 31. (0–2)

Wymagania egzaminacyjne 2024	
Wymaganie ogólne	Wymaganie szczegółowe
V. Rozumowanie i argumentacja.	Zdający: 2. używa wzorów skróconego mnożenia na $(a \pm b)^2$ oraz $a^2 - b^2$.

Zasady oceniania

2 pkt – przekształcenie nierówności $(3x + y)(x + 3y) > 16xy$ do postaci

$$c(x - y)^2 > 0, \text{ gdzie } c > 0 \text{ (np. } 3(x - y)^2 > 0)$$

lub

$$c(x - y)^2 < 0, \text{ gdzie } c < 0 \text{ (np. } -3(x - y)^2 < 0),$$

lub

$$(cx - cy)^2 > 0, \text{ gdzie } c \neq 0 \text{ (np. } (\sqrt{3}x - \sqrt{3}y)^2 > 0)$$

oraz powołanie się na założenie i stwierdzenie, że kwadrat każdej liczby rzeczywistej różnej od zera jest liczbą dodatnią

ALBO

– przekształcenie nierówności $(3x + y)(x + 3y) > 16xy$ do postaci $x^2 + y^2 > 2xy$
oraz powołanie się na nierówność $x^2 + y^2 \geq 2xy$ i stwierdzenie, że dla $x \neq y$ nierówność jest ostra,

ALBO

– obliczenie wyróżnika trójmianu kwadratowego $3x^2 - 6xy + 3y^2$ zmiennej x **oraz** uzasadnienie, że funkcja $f(x) = 3x^2 - 6xy + 3y^2$ przyjmuje wartości dodatnie dla $x \neq y$,

ALBO

– obliczenie wyróżnika trójmianu kwadratowego $3y^2 - 6xy + 3x^2$ zmiennej y **oraz** uzasadnienie, że funkcja $f(y) = 3y^2 - 6xy + 3x^2$ przyjmuje wartości dodatnie dla $y \neq x$.

1 pkt – przekształcenie nierówności $(3x + y)(x + 3y) > 16xy$ do postaci

$$3x^2 - 6xy + 3y^2 > 0$$

ALBO

– przekształcenie nierówności $(3x + y)(x + 3y) > 16xy$ do postaci $x^2 + y^2 > 2xy$,

ALBO

– obliczenie wyróżnika trójmianu kwadratowego $3x^2 - 6xy + 3y^2$ zmiennej x ,

ALBO,

– obliczenie wyróżnika trójmianu kwadratowego $3y^2 - 6xy + 3x^2$ zmiennej y .

0 pkt – rozwiązanie, w którym zastosowano niepoprawną metodę, albo brak rozwiązania.

Uwaga:

Jeśli zdający sprawdza prawdziwość nierówności tylko dla wybranych wartości x i y , to otrzymuje **0 punktów** za całe rozwiązanie.

Przykładowe pełne rozwiązania

Sposób I

Przekształcamy nierówność $(3x + y)(x + 3y) > 16xy$ w sposób równoważny:

$$3x^2 - 6xy + 3y^2 > 0$$

Zauważamy, że lewą stronę nierówności można zapisać w postaci

$$3(x - y)^2 > 0$$

Z założenia wiadomo, że $x \neq y$, więc $3(x - y)^2$ jest liczbą dodatnią.
To należało wykazać.

Sposób II (trójmian kwadratowy zmiennej x z parametrem y)

Przekształcamy równoważnie nierówność $(3x + y)(x + 3y) > 16xy$ i otrzymujemy

$$3x^2 - 6xy + 3y^2 > 0$$

Wyrażenie $3x^2 - 6xy + 3y^2$ traktujemy jako trójmian kwadratowy zmiennej x . Obliczamy wyróżnik Δ trójmianu:

$$\Delta = (-6y)^2 - 4 \cdot 3 \cdot 3y^2 = 0$$

Funkcja $f(x) = 3x^2 - 6xy + 3y^2$ ma dokładnie jedno miejsce zerowe: $x = y$. Ponieważ współczynnik przy drugiej potędze zmiennej jest dodatni, więc żaden fragment wykresu funkcji f nie leży poniżej osi odciętych. Zatem funkcja f przyjmuje wartości dodatnie dla każdego $x \neq y$.

Oznacza to, że dla każdej liczby rzeczywistej x i dla każdej liczby rzeczywistej $y \neq x$ nierówność $3x^2 - 6xy + 3y^2 > 0$ jest prawdziwa.

Zatem nierówność $(3x + y)(x + 3y) > 16xy$ również jest prawdziwa dla każdej liczby rzeczywistej x i dla każdej liczby rzeczywistej $y \neq x$. To należało wykazać.

Zadanie 32. (0–2)

Wymagania egzaminacyjne 2024	
Wymaganie ogólne	Wymaganie szczegółowe
IV. Użycie i tworzenie strategii.	Zdający: 4.9) wyznacza wzór funkcji kwadratowej na podstawie pewnych informacji o tej funkcji lub o jej wykresie.

Zasady oceniania

2 pkt – zastosowanie poprawnej metody i obliczenie współczynników: $b = 4$, $c = -5$.

1 pkt – zapisanie drugiego miejsca zerowego funkcji f : $x_2 = -5$

ALBO

– obliczenie drugiej współrzędnej wierzchołka paraboli będącej wykresem funkcji f :

$q = -9$,

ALBO

– obliczenie współczynnika b : $b = 4$.

0 pkt – rozwiązanie, w którym zastosowano niepoprawną metodę, albo brak rozwiązania.

Przykładowe pełne rozwiązaniaSposób I

Wykres funkcji f jest symetryczny względem prostej o równaniu $x = -2$, zatem drugie miejsce zerowe jest równe $x_2 = -5$.

Wzór funkcji f zapisujemy w postaci iloczynowej $f(x) = (x - 1)(x + 5)$, a następnie w postaci ogólnej $f(x) = x^2 + 4x - 5$.

Zatem współczynniki b i c są równe: $b = 4$, $c = -5$.

Sposób II

Wykres funkcji f jest symetryczny względem prostej o równaniu $x = -2$, zatem pierwsza współrzędna wierzchołka paraboli będącej wykresem funkcji f jest równa $p = -2$.

Wzór funkcji f zapisujemy w postaci kanonicznej $f(x) = (x + 2)^2 + q$.

Punkt $(1, 0)$ leży na wykresie funkcji f , zatem dla argumentu 1 funkcja f przyjmuje wartość 0. Stąd otrzymujemy równanie:

$$0 = (1 + 2)^2 + q$$

Zatem $q = -9$.

Wzór funkcji $f(x) = (x + 2)^2 - 9$ przekształcamy do postaci ogólnej $f(x) = x^2 + 4x - 5$.

Zatem współczynniki b i c są równe: $b = 4$, $c = -5$.

Sposób III

Wykres funkcji f jest symetryczny względem prostej o równaniu $x = -2$, zatem pierwsza współrzędna wierzchołka paraboli będącej wykresem funkcji f jest równa $p = -2$.

Obliczamy współczynnik b , korzystając ze wzoru $p = -\frac{b}{2a}$:

$$-2 = -\frac{b}{2}$$

Stąd $b = 4$.

Punkt $(1, 0)$ leży na wykresie funkcji f , zatem dla argumentu 1 funkcja f przyjmuje wartość 0. Stąd otrzymujemy równanie

$$0 = 1^2 + 4 \cdot 1 + c$$

Zatem współczynniki b i c są równe: $b = 4$, $c = -5$.

Zadanie 33. (0–2)

Wymagania egzaminacyjne 2024	
Wymaganie ogólne	Wymaganie szczegółowe
IV. Użycie i tworzenie strategii.	Zdający: 5.3) stosuje wzór na n -ty wyraz i na sumę n początkowych wyrazów ciągu arytmetycznego.

Zasady oceniania

2 pkt – zastosowanie poprawnej metody i obliczenie różnicy ciągu: $r = -2$.

1 pkt – zapisanie układu równań pozwalającego obliczyć r , np.:

$$-1 = a_1 + 2r \quad \text{oraz} \quad -165 = \frac{2a_1 + 14r}{2} \cdot 15,$$

$$-1 = a_1 + 2r \quad \text{oraz} \quad a_{15} = a_1 + 14r \quad \text{oraz} \quad -165 = \frac{a_1 + a_{15}}{2} \cdot 15,$$

$$a_3 = -1 \quad \text{oraz} \quad -165 = \frac{(a_3 - 2r) + (a_3 + 12r)}{2} \cdot 15$$

ALBO

– zapisanie równania z jedną niewiadomą r , np.:

$$(-1 - 2r) + (-1 - r) + (-1) + (-1 + r) + \dots + (-1 + 12r) = -165,$$

$$\frac{2(-1 - 2r) + 14r}{2} \cdot 15 = -165,$$

$$\frac{(-1 - 2r) + (-1 + 12r)}{2} \cdot 15 = -165,$$

ALBO

– obliczenie ósmego wyrazu ciągu (a_n) z wykorzystaniem własności ciągu arytmetycznego: $a_8 = -11$ (dla sposobów IV oraz V),

ALBO

– zapisanie kolejnych piętnastu początkowych wyrazów ciągu (a_n):

$$3, 1, -1, -3, -5, -7, -9, -11, -13, -15, -17, -19, -21, -23, -25.$$

0 pkt – rozwiązanie, w którym zastosowano niepoprawną metodę, albo brak rozwiązania.

Uwagi:

1. Jeżeli zdający myli ciąg arytmetyczny z geometrycznym, to otrzymuje **0 punktów** za całe rozwiązanie, o ile nie nabył prawa do innej liczby punktów.
2. Jeżeli zdający zapisze tylko $r = -2$, to otrzymuje **1 punkt** za całe rozwiązanie.
3. Jeżeli zdający błędnie interpretuje liczbę (-165) jako piętnasty wyraz ciągu, to otrzymuje **0 punktów** za całe rozwiązanie.

Przykładowe pełne rozwiązania

Sposób I

Korzystamy ze wzorów na n -ty wyraz i sumę n początkowych wyrazów ciągu arytmetycznego i otrzymujemy układ równań

$$\begin{cases} -1 = a_1 + 2r \\ -165 = \frac{2a_1 + 14r}{2} \cdot 15 \end{cases}$$

Przekształcając ten układ równoważnie, otrzymujemy

$$\begin{cases} -1 = a_1 + 2r \\ -11 = a_1 + 7r \end{cases}$$

Odejmując stronami równania układu, otrzymujemy

$$\begin{aligned} 10 &= -5r \\ r &= -2 \end{aligned}$$

Różnica ciągu jest równa (-2) .

Sposób II

Suma kolejnych piętnastu początkowych wyrazów ciągu arytmetycznego jest równa (-165) , zatem

$$a_1 + a_2 + a_3 + \dots + a_{15} = -165$$

$$(a_3 - 2r) + (a_3 - r) + a_3 + (a_3 + r) + (a_3 + 2r) + \dots + (a_3 + 12r) = -165$$

$$15a_3 + (-2r - r + 0 + r + 2r + 3r + \dots + 12r) = -165$$

gdzie $a_3 = -1$, a suma piętnastu liczb $(-2r - r + 0 + r + 2r + 3r + \dots + 12r)$ jest równa

$$\frac{-2r + 12r}{2} \cdot 15 = 75r$$

Zatem

$$15 \cdot (-1) + 75r = -165$$

$$75r = -150$$

$$r = -2$$

Różnica ciągu jest równa (-2) .

Sposób III

Suma kolejnych piętnastu początkowych wyrazów ciągu arytmetycznego jest równa (-165) , zatem

$$\frac{a_1 + a_{15}}{2} \cdot 15 = -165$$

$$a_1 + a_{15} = -22$$

$$(a_3 - 2r) + (a_3 + 12r) = -22$$

$$2a_3 + 10r = -22$$

Stąd i z tego, że $a_3 = -1$, otrzymujemy

$$2 \cdot (-1) + 10r = -22$$

Zatem

$$10r = -20$$

$$r = -2$$

Różnica ciągu jest równa (-2) .

Sposób IV

Suma kolejnych piętnastu początkowych wyrazów ciągu arytmetycznego jest równa (-165) , zatem

$$a_1 + a_2 + a_3 + \dots + a_{15} = -165$$

$$(a_8 - 7r) + (a_8 - 6r) + \dots + a_8 + \dots + (a_8 + 6r) + (a_8 + 7r) = -165$$

$$15a_8 = -165$$

$$a_8 = \frac{-165}{15} = -11$$

Korzystamy z własności ciągu arytmetycznego i otrzymujemy

$$a_8 = a_3 + 5r$$

$$-11 = -1 + 5r$$

$$r = -2$$

Różnica ciągu jest równa (-2) .

Sposób V

Korzystamy z własności ciągu arytmetycznego i otrzymujemy równania:

$$a_8 = \frac{a_7 + a_9}{2}$$

$$a_8 = \frac{a_6 + a_{10}}{2}$$

$$a_8 = \frac{a_5 + a_{11}}{2}$$

$$a_8 = \frac{a_4 + a_{12}}{2}$$

$$a_8 = \frac{a_3 + a_{13}}{2}$$

$$a_8 = \frac{a_2 + a_{14}}{2}$$

$$a_8 = \frac{a_1 + a_{15}}{2}$$

Zatem

$$\begin{aligned} a_1 + a_2 + \dots + a_{14} + a_{15} &= (a_1 + a_{15}) + (a_2 + a_{14}) + \dots + (a_7 + a_9) + a_8 = \\ &= 15a_8 = -165 \end{aligned}$$

Stąd $a_8 = -11$. Ponieważ

$$a_8 = a_3 + 5r$$

więc otrzymujemy

$$-11 = -1 + 5r$$

$$r = -2$$

Różnica ciągu jest równa (-2) .

Zadanie 34. (0–2)

Wymagania egzaminacyjne 2024	
Wymaganie ogólne	Wymagania szczegółowe
IV. Użycie i tworzenie strategii.	Zdający: 8.5) wyznacza współrzędne środka odcinka; 8.6) oblicza odległość dwóch punktów.

Zasady oceniania

2 pkt – zastosowanie poprawnej metody i obliczenie długości boku BC : $|BC| = \sqrt{52}$.

1 pkt – zapisanie współrzędnych punktu C : $C = (14, 8)$

ALBO

– zapisanie współrzędnych punktu D : $D = (2, 12)$,

ALBO

– zapisanie współrzędnych środka S boku AB : $S = (4, 4)$ **oraz** zapisanie równości

$$|BC| = 2|PS|,$$

ALBO

– zapisanie równości $\vec{CB} = 2 \cdot \vec{PA} + \vec{AB}$ **oraz** obliczenie współrzędnych wektorów

$$\vec{PA} \text{ i } \vec{AB}: \vec{PA} = [-8, -1] \text{ oraz } \vec{AB} = [12, -4],$$

ALBO

– obliczenie długości odcinków AB , AP oraz BP i cosinusa kąta α oraz cosinusa kąta $(180^\circ - \alpha)$, gdzie $\alpha = |\sphericalangle APB|$: $|AB| = 4\sqrt{10}$ oraz $|AP| = \sqrt{65}$, oraz

$$|BP| = \sqrt{41}, \text{ oraz } \cos \alpha = -\frac{27}{\sqrt{65} \cdot \sqrt{41}}, \text{ oraz } \cos(180^\circ - \alpha) = \frac{27}{\sqrt{65} \cdot \sqrt{41}}.$$

0 pkt – rozwiązanie, w którym zastosowano niepoprawną metodę, albo brak rozwiązania.

Uwagi:

- Jeżeli zdający korzysta z punktów kratowych oraz błędnie zaznaczy w układzie współrzędnych co najmniej jeden z punktów A , B , C , P i na tej podstawie oblicza długość odcinka BC , to otrzymuje **0 punktów** za całe rozwiązanie (o ile nie nabył praw do innej punktacji).
- Jeżeli zdający korzysta z punktów kratowych oraz poprawnie zaznaczy w układzie współrzędnych punkty A , B , C , P , lecz błędnie odczyta współrzędne jednego z tych punktów, i na tej podstawie oblicza długość odcinka BC , to otrzymuje **1 punkt** za całe rozwiązanie.
- Jeżeli zdający obliczy długość odcinka BC , korzystając z przybliżonych wartości funkcji trygonometrycznych, to może otrzymać co najwyżej **1 punkt** za całe rozwiązanie.

Przykładowe pełne rozwiązania

Sposób I

Punkt P jest środkiem przekątnej AC . Ze wzoru na współrzędne środka odcinka otrzymujemy

$$\frac{-2 + x_c}{2} = 6 \quad \text{oraz} \quad \frac{6 + y_c}{2} = 7$$

Zatem $C = (14, 8)$.

Obliczamy długość odcinka BC :

$$|BC| = \sqrt{(14 - 10)^2 + (8 - 2)^2} = \sqrt{16 + 36} = \sqrt{52} = 2\sqrt{13}$$

Sposób II

Punkt P jest środkiem przekątnej BD . Ze wzoru na współrzędne środka odcinka otrzymujemy

$$\frac{10 + x_d}{2} = 6 \quad \text{oraz} \quad \frac{2 + y_d}{2} = 7$$

Zatem $D = (2, 12)$.

Obliczamy długość odcinka BC :

$$|BC| = |AD| = \sqrt{(2 + 2)^2 + (12 - 6)^2} = \sqrt{16 + 36} = \sqrt{52} = 2\sqrt{13}$$

Sposób III

Obliczamy współrzędne punktu S środka odcinka AB :

$$S = \left(\frac{-2 + 10}{2}, \frac{6 + 2}{2} \right)$$
$$S = (4, 4)$$

Obliczamy długość odcinka BC :

$$|BC| = 2|PS| = 2\sqrt{(4 - 6)^2 + (4 - 7)^2} = 2\sqrt{4 + 9} = 2\sqrt{13}$$

Zadanie 35. (0–2)

Wymagania egzaminacyjne 2024	
Wymaganie ogólne	Wymaganie szczegółowe
III. Modelowanie matematyczne.	Zdający: 10.2) oblicza prawdopodobieństwa w prostych sytuacjach, stosując klasyczną definicję prawdopodobieństwa.

Zasady oceniania

2 pkt – zastosowanie poprawnej metody obliczenia prawdopodobieństwa zdarzenia A

i uzyskanie poprawnego wyniku: $P(A) = \frac{13}{25}$.

1 pkt – wypisanie wszystkich zdarzeń elementarnych lub obliczenie/podanie liczby tych zdarzeń: $|\Omega| = 5 \cdot 5$ lub sporządzenie tabeli o 25 polach odpowiadających zdarzeniom elementarnym, z których co najmniej jedno pole jest wypełnione, lub sporządzenie pełnego drzewa stochastycznego

ALBO

– wypisanie (lub zaznaczenie w tabeli) wszystkich zdarzeń elementarnych sprzyjających zdarzeniu A i niewypisanie żadnego niewłaściwego,

ALBO

– podanie liczby wszystkich zdarzeń elementarnych sprzyjających zdarzeniu A : $|A| = 13$, o ile nie zostały zliczone błędne pary,

ALBO

– sporządzenie fragmentu drzewa stochastycznego, które zawiera wszystkie gałęzie sprzyjające zdarzeniu A **oraz** zapisanie prawdopodobieństwa na co najmniej jednym odcinku każdego z etapów doświadczenia,

ALBO

– podanie prawdopodobieństwa jednoelementowego zdarzenia (elementarnego): $\frac{1}{25}$,

ALBO

– zapisanie tylko $P(A) = \frac{13}{25}$.

0 pkt – rozwiązanie, w którym zastosowano niepoprawną metodę, albo brak rozwiązania.

Uwagi:

1. Jeżeli zdający zapisuje tylko liczby 13 lub 25 i z rozwiązania nie wynika znaczenie tych liczb, to otrzymuje **0 punktów** za całe rozwiązanie.

2. Jeżeli zdający rozważa losowanie bez zwracania, to otrzymuje **0 punktów**.

Przykładowe pełne rozwiązania

Sposób I

Zdarzeniami elementarnymi są wszystkie uporządkowane pary liczb (x, y) , gdzie $x, y \in \{5, 6, 7, 8, 9\}$.

Liczbę wszystkich zdarzeń elementarnych obliczamy, korzystając z reguły mnożenia.

Moc zbioru Ω jest równa $5 \cdot 5 = 25$.

Liczbę wszystkich zdarzeń elementarnych sprzyjających zdarzeniu A obliczamy, korzystając z reguły mnożenia i reguły dodawania. Suma dwóch liczb naturalnych jest liczbą parzystą, gdy sumujemy dwie liczby parzyste lub dwie liczby nieparzyste. Stąd moc zbioru A jest równa $3 \cdot 3 + 2 \cdot 2 = 13$.

Zatem prawdopodobieństwo zdarzenia A jest równe $\frac{13}{25}$.

Sposób II

W tabeli literą A zaznaczamy zdarzenia elementarne sprzyjające zdarzeniu A (pary liczb, których suma jest liczbą parzystą).

	5	6	7	8	9
5	A		A		A
6		A		A	
7	A		A		A
8		A		A	
9	A		A		A

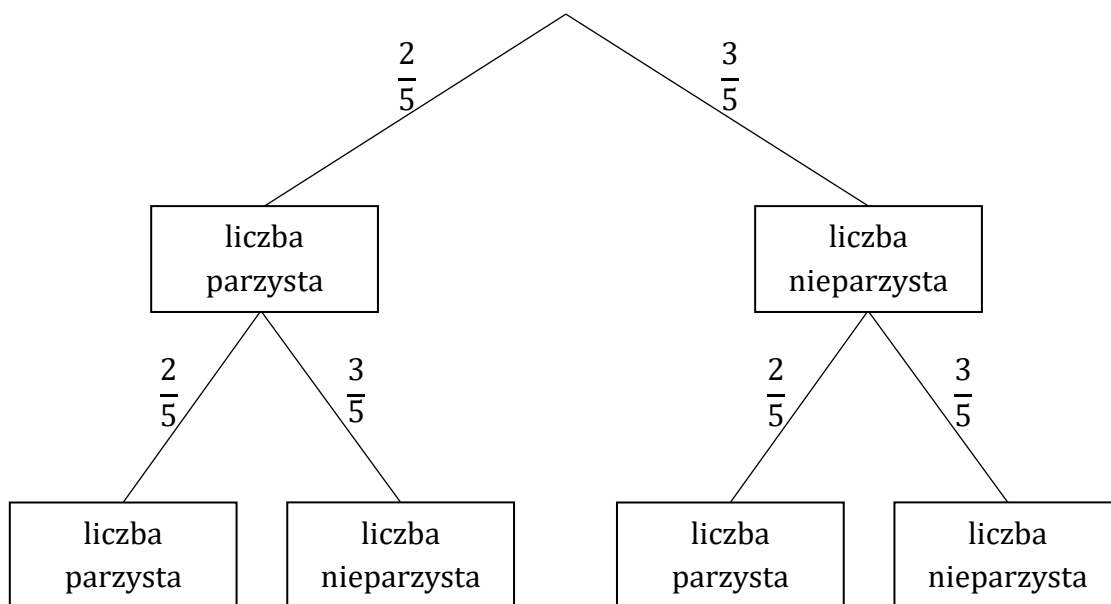
Moc zbioru Ω jest równa 25.

Zdarzeń sprzyjających wylosowaniu liczb, których suma jest parzysta, jest 13.

Zatem prawdopodobieństwo zdarzenia A jest równe $\frac{13}{25}$.

Sposób III (drzewo stochastyczne)

Rysujemy drzewo stochastyczne rozważanego doświadczenia.



Prawdopodobieństwo zdarzenia A jest równe

$$P(A) = \frac{2}{5} \cdot \frac{2}{5} + \frac{3}{5} \cdot \frac{3}{5} = \frac{13}{25}$$

Zadanie 36. (0–5)

Wymagania egzaminacyjne 2024	
Wymaganie ogólne	Wymagania szczegółowe
IV. Użycie i tworzenie strategii.	Zdający: G11.2) oblicza pole powierzchni i objętość graniastopu prostego [...]. 9.2) rozpoznaje w graniastopach kąt między odcinkami i płaszczyznami [...].

Zasady oceniania**Część I** (Obliczenie cosinusa kąta α)

2 pkt – obliczenie cosinusa kąta α : $\cos \alpha = \frac{1}{3}$.

1 pkt – zapisanie przekątnej graniastopu jako $3a\sqrt{2}$

ALBO

– obliczenie tangensa kąta α nachylenia przekątnej graniastopu do płaszczyzny

podstawy: $\operatorname{tg} \alpha = \frac{4}{\sqrt{2}}$,

ALBO

– obliczenie długości przekątnej graniastopu podobnego do rozpatrywanego.

0 pkt – rozwiązanie, w którym zastosowano niepoprawną metodę, albo brak rozwiązania.

Uwaga:

Jeżeli zdający obliczy wartość cosinusa kąta α , popełniając błąd, który nie jest rachunkowy (np. przyjmie, że przekątna podstawy jest równa $\frac{a\sqrt{3}}{2}$), to otrzymuje za tę część rozwiązania **0 punktów**, o ile nie nabył praw do innej punktacji.

Część II (Obliczenie pola powierzchni całkowitej graniastopu)

3 pkt – obliczenie pola powierzchni całkowitej graniastopu: $P_c = 162$.

2 pkt – zapisanie równania z jedną niewiadomą a lub H , np.:

$$a^2 \cdot 4a = 108, \left(\frac{1}{4}H\right)^2 \cdot H = 108$$

ALBO

– obliczenie skali k podobieństwa graniastopu podobnego do rozpatrywanego (gdzie $k \neq 1$).

1 pkt – zapisanie związku pomiędzy krawędzią podstawy a wysokością graniastopu, np.:

$$H = 4a, a^2 \cdot H = 108$$

ALBO

- obliczenie objętości i pola powierzchni całkowitej graniastoslupa podobnego do rozpatrywanego w skali $k \neq 1$
(np. przyjmując $a = 1$, $H = 4$ i wtedy $V = 4$ oraz $P_c = 18$),
ALBO
- zapisanie zależności między objętością danego graniastoslupa i graniastoslupa do niego podobnego, np. $108 = 1^2 \cdot 4 \cdot k^3$ (gdzie k to skala podobieństwa).

0 pkt – rozwiązanie, w którym zastosowano niepoprawną metodę, albo brak rozwiązania.

Przykładowe pełne rozwiązania

Sposób I

Przyjmujemy oznaczenia:

a – długość krawędzi podstawy ($a > 0$),

H – wysokość graniastoslupa ($H > 0$).

Stosunek długości krawędzi podstawy do wysokości graniastoslupa jest równy $\frac{1}{4}$. Zatem $H = 4a$. Objętość graniastoslupa wynosi 108, stąd otrzymujemy równanie:

$$a^2 \cdot 4a = 108$$

$$4a^3 = 108$$

$$a^3 = 27$$

$$a = 3$$

Następnie obliczamy wysokość graniastoslupa, pole powierzchni całkowitej oraz przekątną podstawy:

$$H = 4 \cdot 3 = 12$$

$$P_c = 2 \cdot a^2 + 4 \cdot aH = 2 \cdot 3^2 + 4 \cdot 3 \cdot 12 = 18 + 144 = 162$$

$$a\sqrt{2} = 3\sqrt{2}$$

Korzystając z twierdzenia Pitagorasa, obliczamy długość d przekątnej graniastoslupa:

$$d^2 = 12^2 + (3\sqrt{2})^2, \text{ gdzie } d > 0$$

$$d^2 = 162$$

$$d = \sqrt{162} = 9\sqrt{2}$$

Obliczamy $\cos \alpha$:

$$\cos \alpha = \frac{a\sqrt{2}}{d} = \frac{3\sqrt{2}}{9\sqrt{2}} = \frac{1}{3}$$

Sposób II

Przyjmujemy oznaczenia:

a – długość krawędzi podstawy ($a > 0$),

H – wysokość graniastosłupa ($H > 0$).

Stosunek długości krawędzi podstawy do wysokości graniastosłupa jest równy $\frac{1}{4}$. Zatem

$H = 4a$. Przekątna podstawy ma długość $a\sqrt{2}$, stąd otrzymujemy:

$$\operatorname{tg} \alpha = \frac{4a}{a\sqrt{2}} = 2\sqrt{2}$$

Zatem $\frac{\sin \alpha}{\cos \alpha} = 2\sqrt{2}$. Stąd $\sin \alpha = 2\sqrt{2} \cdot \cos \alpha$.

Wykorzystując tę zależność oraz tożsamość $\sin^2 \alpha + \cos^2 \alpha = 1$, otrzymujemy

$$(2\sqrt{2} \cdot \cos \alpha)^2 + \cos^2 \alpha = 1$$

$$8 \cos^2 \alpha + \cos^2 \alpha = 1$$

$$9 \cos^2 \alpha = 1$$

$$\cos^2 \alpha = \frac{1}{9}$$

Stąd $\cos \alpha = \frac{1}{3}$, ponieważ α jest kątem ostrym.

Objętość graniastosłupa wynosi 108, stąd otrzymujemy równanie:

$$a^2 \cdot 4a = 108$$

$$4a^3 = 108$$

$$a^3 = 27$$

$$a = 3$$

Następnie obliczamy pole powierzchni całkowitej graniastosłupa:

$$P_c = 2 \cdot a^2 + 4 \cdot aH = 2 \cdot a^2 + 4 \cdot a \cdot 4a = 18 \cdot a^2 = 18 \cdot 3^2 = 162$$

Sposób III

Rozważmy graniastosłup prawidłowy czworokątny G_1 o wysokości 4 i krawędzi podstawy długości 1. Graniastosłup G_1 jest podobny do danego graniastosłupa, zatem przekątna graniastosłupa G_1 jest nachylona do płaszczyzny podstawy pod kątem, którego miara jest równa mierze kąta α .

Przekątna podstawy graniastosłupa G_1 ma długość $\sqrt{2}$.

Korzystając z twierdzenia Pitagorasa, obliczamy długość d_1 przekątnej graniastosłupa G_1 :

$$d_1^2 = 4^2 + (\sqrt{2})^2, \text{ gdzie } d_1 > 0$$

$$d_1^2 = 18$$

$$d_1 = \sqrt{18} = 3\sqrt{2}$$

Obliczamy $\cos \alpha$:

$$\cos \alpha = \frac{\sqrt{2}}{3\sqrt{2}} = \frac{1}{3}$$

Objętość V_1 graniastosłupa G_1 jest równa

$$V_1 = 1^2 \cdot 4 = 4$$

Pole P_{c_1} powierzchni całkowitej graniastosłupa G_1 jest równe

$$P_{c_1} = 2 \cdot 1^2 + 4 \cdot 1 \cdot 4 = 18$$

Stosunek objętości V_1 graniastosłupa G_1 do objętości V danego graniastosłupa jest równy sześcianowi skali podobieństwa. Zatem

$$k^3 = \frac{V_1}{V} = \frac{4}{108} = \frac{1}{27}$$

Stąd $k = \frac{1}{3}$.

Stosunek pola P_{c_1} powierzchni całkowitej graniastosłupa G_1 do pola P_c powierzchni całkowitej danego graniastosłupa jest równy kwadratowi skali podobieństwa. Zatem

$$\frac{P_{c_1}}{P_c} = k^2$$

$$\frac{18}{P_c} = \frac{1}{9}$$

$$P_c = 18 \cdot 9 = 162$$

Ocena prac osób ze stwierdzoną dyskalkulią

Obowiązują **Zasady oceniania** stosowane przy sprawdzaniu prac zdających bez stwierdzonej dyskalkulii z dodatkowym uwzględnieniem:

- a) **ogólnych zasad oceniania** zadań otwartych w przypadku arkuszy osób ze stwierdzoną dyskalkulią (punkty 1.–12.);
- b) dodatkowych **szczegółowych zasad oceniania** zadań otwartych w przypadku arkuszy osób ze stwierdzoną dyskalkulią – egzamin maturalny z matematyki, poziom podstawowy, termin główny 2024.

I. **Ogólne zasady oceniania** zadań otwartych w przypadku arkuszy osób ze stwierdzoną dyskalkulią

1. Nie należy traktować jako błędy merytoryczne pomyłek, wynikających z:
 - błędnego przepisania
 - przestawienia cyfr
 - zapisania innej cyfry, ale o podobnym wyglądzie
 - przestawienia położenia przecinka
 - przestawienia położenia znaku liczby.
2. W przypadku błędów, wynikających ze zmiany znaku liczby, należy w każdym zadaniu oddzielnie przeanalizować, czy zdający opanował inne umiejętności, poza umiejętnościami rachunkowymi, oceniane w zadaniu. W przypadku opanowania badanych umiejętności zdający powinien otrzymać przynajmniej 1 punkt.
3. We wszystkich zadaniach otwartych, w których wskazano poprawną metodę rozwiązania, części lub całości zadania, zdającemu należy przyznać przynajmniej 1 punkt, zgodnie z kryteriami do poszczególnych zadań.
4. Jeśli zdający przedstawia nieprecyzyjne zapisy, na przykład pomija nawiasy lub zapisuje nawiasy w niewłaściwych miejscach, ale przeprowadza poprawne rozumowanie lub stosuje właściwą strategię, to może otrzymać przynajmniej 1 punkt za rozwiązanie zadania.
5. W przypadku zadania wymagającego wyznaczenia pierwiastków trójmianu kwadratowego zdający może otrzymać 1 punkt, jeżeli przedstawi poprawną metodę wyznaczania pierwiastków trójmianu kwadratowego, przy podanych w treści zadania wartościach liczbowych.
6. W przypadku zadania wymagającego rozwiązania nierówności kwadratowej zdający może otrzymać 1 punkt, jeżeli stosuje poprawny algorytm rozwiązywania nierówności kwadratowej, przy podanych w treści zadania wartościach liczbowych.
7. W przypadku zadania wymagającego stosowania własności funkcji kwadratowej zdający może otrzymać 1 punkt za wykorzystanie konkretnych własności funkcji kwadratowej, istotnych przy poszukiwaniu rozwiązania.
8. W przypadku zadania wymagającego zastosowania własności ciągów arytmetycznych lub geometrycznych zdający może otrzymać 1 punkt, jeżeli przedstawi wykorzystanie takiej własności ciągu, która umożliwi znalezienie rozwiązania zadania.

9. W przypadku zadania wymagającego analizowania figur geometrycznych na płaszczyźnie kartezjańskiej zdający może otrzymać punkty, jeżeli przy poszukiwaniu rozwiązania przedstawi poprawne rozumowanie, wykorzystujące własności figur geometrycznych lub zapisze zależności, pozwalające rozwiązać zadanie.
 10. W przypadku zadania z rachunku prawdopodobieństwa zdający może otrzymać przynajmniej 1 punkt, jeśli przy wyznaczaniu liczby zdarzeń elementarnych sprzyjających rozważanemu zdarzeniu przyjmuje określoną regularność lub podaje prawidłową metodę wyznaczenia tej liczby zdarzeń elementarnych.
 11. W przypadku zadania z geometrii zdający może otrzymać przynajmniej 1 punkt, jeżeli podaje poprawną metodę wyznaczenia długości odcinka potrzebnej do znalezienia rozwiązania.
 12. W przypadku zadania wymagającego przeprowadzenia dowodu (z zakresu algebry lub geometrii), jeśli w przedstawionym rozwiązaniu zdający powoła się na własność, która wyznacza istotny postępowanie, prowadzący do przeprowadzenia dowodu, to może otrzymać 1 punkt.
- II. Dodatkowe **szczegółowe zasady oceniania** zadań otwartych w przypadku arkuszy osób ze stwierdzoną dyskalkulią

Zadanie 30.

- 1 pkt – zastosowanie poprawnej metody obliczenia pierwiastków trójmianu kwadratowego $x^2 - 3x - 4$, tzn. zastosowanie wzorów na pierwiastki trójmianu kwadratowego i obliczenie tych pierwiastków
ALBO
- konsekwentne (do otrzymanego w wyniku popełnienia błędów o charakterze dyskalkulicznym ujemnego wyróżnika) narysowanie paraboli,
ALBO
 - poprawne rozwiązanie nierówności $x^2 - 4 \leq 0$ (tzn. stosuje się punkt 6. ogólnych zasad oceniania),
ALBO
 - konsekwentne (do wyznaczonych przez siebie pierwiastków oraz rozpatrywanego trójmianu i nierówności) wyznaczenie zbioru rozwiązań nierówności.

Uwagi:

1. Jeżeli zdający, rozwiązując nierówność, pomyli porządek liczb na osi liczbowej i zapisze zbiór rozwiązań nierówności w postaci $\langle 4, -1 \rangle$, to może otrzymać **2 punkty** za całe rozwiązanie.
2. Nie stosuje się uwag 2. i 3. z zasad oceniania arkusza standardowego.

Zadanie 31.

- 1 pkt – przekształcenie wyrażenia $(3x + y)(x + 3y)$ do postaci $3x^2 + 9xy + xy + 3y^2$.

Zadanie 32.

Stosuje się zasady oceniania arkusza standardowego.

Zadanie 33.

1 pkt – zapisanie równania z dwiema niewiadomymi, gdzie jedną z niewiadomych jest różnica ciągu arytmetycznego, np.: $-1 = a_1 + 2r$, $-165 = \frac{2a_1 + 14r}{2} \cdot 15$.

Zadanie 34.

- 1 pkt – poprawne zaznaczenie w kartezjańskim układzie współrzędnych punktu C
ALBO
- poprawne zaznaczenie w kartezjańskim układzie współrzędnych punktu D ,
ALBO
 - zapisanie współrzędnych środka S boku AB : $S = (4, 4)$.

Zadanie 35.

1 pkt – zapisanie jedynie liczby 25 (należy traktować to jako wyznaczenie liczby wszystkich zdarzeń elementarnych).

Uwagi:

1. W ocenie rozwiązania tego zadania (dla zdających z dyskalkulią) nie stosuje się uwagi 1. ze standardowych zasad oceniania.
2. Jeżeli zdający poprawnie wypisze/zaznaczy wszystkie zdarzenia elementarne sprzyjające zdarzeniu A , lecz popełni błąd w ich zliczeniu (np. $|A| = 12$) i konsekwentnie zapisze wynik (np. $\frac{12}{25}$), to otrzymuje **2 punkty**.

Zadanie 36.

1 pkt – zapisanie długości krawędzi podstawy oraz wysokości graniastosłupa podobnego do rozpatrywanego (np. $a = 1$, $H = 4$).