

Arkusz zawiera informacje prawnie chronione do momentu rozpoczęcia egzaminu.

Układ graficzny © CKE 2013

UZUPEŁNIA ZDAJĄCY**KOD**

--	--	--

PESEL

--	--	--	--	--	--	--	--	--	--	--	--	--	--	--	--	--	--

*Miejsce
na naklejkę
z kodem* dysleksja**EGZAMIN MATURALNY
Z MATEMATYKI****POZIOM ROZSZERZONY****Instrukcja dla zdającego**

1. Sprawdź, czy arkusz egzaminacyjny zawiera 17 stron (zadania 1–11). Ewentualny brak zgłoś przewodniczącemu zespołu nadzorującego egzamin.
2. Rozwiązania zadań i odpowiedzi wpisuj w miejscu na to przeznaczonym.
3. Pamiętaj, że pominięcie argumentacji lub istotnych obliczeń w rozwiązaniu zadania otwartego może spowodować, że za to rozwiązanie nie będziesz mógł dostać pełnej liczby punktów.
4. Pisz czytelnie i używaj tylko długopisu lub pióra z czarnym tuszem lub atramentem.
5. Nie używaj korektora, a błędne zapisy wyraźnie przekreśl.
6. Pamiętaj, że zapisy w brudnopisie nie będą oceniane.
7. Możesz korzystać z zestawu wzorów matematycznych, cyrkla i linijki oraz kalkulatora prostego.
8. Na tej stronie oraz na karcie odpowiedzi wpisz swój numer PESEL i przyklej naklejkę z kodem.
9. Nie wpisuj żadnych znaków w części przeznaczonej dla egzaminatora.

8 MAJA 2015**Godzina rozpoczęcia:
9:00****Czas pracy:
180 minut****Liczba punktów
do uzyskania: 50**


MMA-R1_1P-152

Zadanie 1. (3 pkt)

Wykaż, że dla każdej dodatniej liczby rzeczywistej x różnej od 1 oraz dla każdej dodatniej liczby rzeczywistej y różnej od 1 prawdziwa jest równość


$$\log_x(xy) \cdot \log_y\left(\frac{y}{x}\right) = \log_y(xy) \cdot \log_x\left(\frac{y}{x}\right).$$

Więcej znajdziesz na <https://paulinaodmatematyki.com>



Zadanie 2. (5 pkt)

Dany jest wielomian $W(x) = x^3 - 3mx^2 + (3m^2 - 1)x - 9m^2 + 20m + 4$. Wykres tego wielomianu, po przesunięciu o wektor $\vec{u} = [-3, 0]$, przechodzi przez początek układu współrzędnych. Wyznacz wszystkie pierwiastki wielomianu W .





Odpowiedź:

Wypełnia egzaminator	Nr zadania	1.	2.
	Maks. liczba pkt	3	5
	Uzyskana liczba pkt		

Zadanie 3. (6 pkt)

Wyznacz wszystkie wartości parametru m , dla których równanie $(m^2 - m)x^2 - x + 1 = 0$ ma dwa różne rozwiązania rzeczywiste x_1, x_2 takie, że $\frac{1}{x_1 + x_2} \leq \frac{m}{3} \leq \frac{1}{x_1} + \frac{1}{x_2}$.






Odpowiedź:

Wypełnia egzaminator	Nr zadania	3.
	Maks. liczba pkt	6
	Uzyskana liczba pkt	

Zadanie 4. (6 pkt)

Trzy liczby tworzą ciąg arytmetyczny. Jeśli do pierwszej z nich dodamy 5, do drugiej 3, a do trzeciej 4, to otrzymamy rosnący ciąg geometryczny, w którym trzeci wyraz jest cztery razy większy od pierwszego. Znajdź te liczby.


Więcej znajdziesz na <https://paulinaodmatematyki.com>



Odpowiedź:

Zadanie 5. (4 pkt)

Rozwiąż równanie $\sin^2 2x - 4\sin^2 x + 1 = 0$ w przedziale $\langle 0, 2\pi \rangle$.




Odpowiedź:

Wypełnia egzaminator	Nr zadania	4.	5.
	Maks. liczba pkt	6	4
	Uzyskana liczba pkt		

Zadanie 6. (4 pkt)


Rozwiąż nierówność $|2x - 6| + |x + 7| \geq 17$.



Odpowiedź:

Zadanie 7. (4 pkt)


O trapezie $ABCD$ wiadomo, że można w niego wpisać okrąg, a ponadto długości jego boków AB, BC, CD, AD – w podanej kolejności – tworzą ciąg geometryczny. Uzasadnij, że trapez $ABCD$ jest rombem.




Wypełnia egzaminator	Nr zadania	6.	7.
	Maks. liczba pkt	4	4
	Uzyskana liczba pkt		

Zadanie 8. (4 pkt)

Na boku AB trójkąta równobocznego ABC wybrano punkt D taki, że $|AD| : |DB| = 2 : 3$.
Oblicz tangens kąta ACD .







Odpowiedź:

Wypełnia egzaminator	Nr zadania	8.
	Maks. liczba pkt	4
	Uzyskana liczba pkt	

Zadanie 9. (5 pkt)

Wyznacz równania prostych stycznych do okręgu o równaniu $x^2 + y^2 + 4x - 6y - 3 = 0$ i zarazem prostopadłych do prostej $x + 2y - 6 = 0$.







Odpowiedź:

Wypełnia egzaminator	Nr zadania	9.
	Maks. liczba pkt	5
	Uzyskana liczba pkt	

Zadanie 10. (6 pkt)

Krawędź podstawy ostrosłupa prawidłowego czworokątnego $ABCDS$ ma długość a . Ściana boczna jest nachylona do płaszczyzny podstawy ostrosłupa pod kątem 2α . Ostrosłup ten przecięto płaszczyzną, która przechodzi przez krawędź podstawy i dzieli na połowy kąt pomiędzy ścianą boczną i podstawą. Oblicz pole powstałego przekroju tego ostrosłupa.






Odpowiedź:

Wypełnia egzaminator	Nr zadania	10.
	Maks. liczba pkt	6
	Uzyskana liczba pkt	

Zadanie 11. (3 pkt)

Rozważmy rzut sześcioma kostkami do gry, z których każda ma inny kolor. Oblicz prawdopodobieństwo zdarzenia polegającego na tym, że uzyskany wynik rzutu spełnia równocześnie trzy warunki:

- dokładnie na dwóch kostkach otrzymano po jednym oczku;
- dokładnie na trzech kostkach otrzymano po sześć oczek;
- suma wszystkich otrzymanych liczb oczek jest parzysta.



Odpowiedź:

Wypełnia egzaminator	Nr zadania	11.
	Maks. liczba pkt	3
	Uzyskana liczba pkt	


BRUDNOPIS (*nie podlega ocenie*)

Więcej znajdziesz na <https://paulinaodmatematyki.com>

Więcej znajdziesz na <https://paulinaodmatematyki.com>

Więcej znajdziesz na <https://paulinaodmatematyki.com>

Więcej znajdziesz na <https://paulinaodmatematyki.com>



PESEL

--	--	--	--	--	--	--	--	--	--

MMA-R1_1P-152

WYPEŁNIA ZDAJĄCY

Miejsce na naklejkę
z nr. PESEL

WYPEŁNIA EGZAMINATOR

Nr zad.	Punkty						
	0	1	2	3	4	5	6
1	<input type="checkbox"/>	<input type="checkbox"/>	<input type="checkbox"/>	<input type="checkbox"/>			
2	<input type="checkbox"/>	<input type="checkbox"/>	<input type="checkbox"/>	<input type="checkbox"/>	<input type="checkbox"/>	<input type="checkbox"/>	
3	<input type="checkbox"/>	<input type="checkbox"/>	<input type="checkbox"/>	<input type="checkbox"/>	<input type="checkbox"/>	<input type="checkbox"/>	<input type="checkbox"/>
4	<input type="checkbox"/>	<input type="checkbox"/>	<input type="checkbox"/>	<input type="checkbox"/>	<input type="checkbox"/>	<input type="checkbox"/>	<input type="checkbox"/>
5	<input type="checkbox"/>	<input type="checkbox"/>	<input type="checkbox"/>	<input type="checkbox"/>	<input type="checkbox"/>		
6	<input type="checkbox"/>	<input type="checkbox"/>	<input type="checkbox"/>	<input type="checkbox"/>	<input type="checkbox"/>		
7	<input type="checkbox"/>	<input type="checkbox"/>	<input type="checkbox"/>	<input type="checkbox"/>	<input type="checkbox"/>		
8	<input type="checkbox"/>	<input type="checkbox"/>	<input type="checkbox"/>	<input type="checkbox"/>	<input type="checkbox"/>		
9	<input type="checkbox"/>	<input type="checkbox"/>	<input type="checkbox"/>	<input type="checkbox"/>	<input type="checkbox"/>	<input type="checkbox"/>	
10	<input type="checkbox"/>	<input type="checkbox"/>	<input type="checkbox"/>	<input type="checkbox"/>	<input type="checkbox"/>	<input type="checkbox"/>	<input type="checkbox"/>
11	<input type="checkbox"/>	<input type="checkbox"/>	<input type="checkbox"/>	<input type="checkbox"/>			

SUMA PUNKTÓW		<input style="width: 100%; height: 100%;" type="text"/>								
D	<input type="checkbox"/>									
	0	1	2	3	4	5	6	7	8	9
J	<input type="checkbox"/>									
	0	1	2	3	4	5	6	7	8	9



--	--	--	--	--	--	--	--	--	--

KOD EGZAMINATORA

.....
Czytelny podpis egzaminatora

--	--	--

KOD ZDAJĄCEGO